

Consigne : Faire correspondre un énoncé et un schéma.

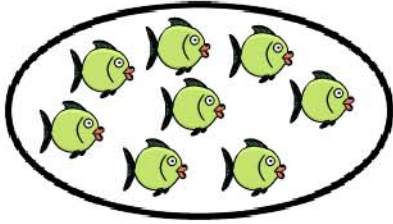
Nom : .....

Date : .....


Entoure le dessin qui correspond à chaque problème.

Jérémy, Romain et Raphaëlle vont à la pêche. Romain attrape 8 poissons, Jérémy en prend 2 de plus que Romain et Raphaëlle en pêche 3 de moins que Jérémy. Combien de poissons les 3 amis ont-ils rapportés ?

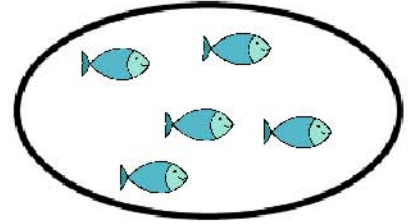
Dessin n°1



Poissons de Romain  
8




Poissons de Jérémy  
10




Poissons de Raphaëlle  
5

Nombre total de poissons = 23

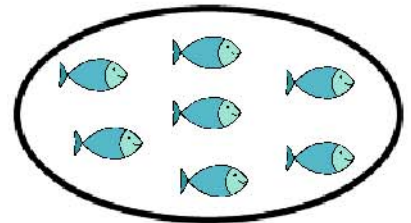
Dessin n°2



Poissons de Romain  
8



Poissons de Jérémy  
10

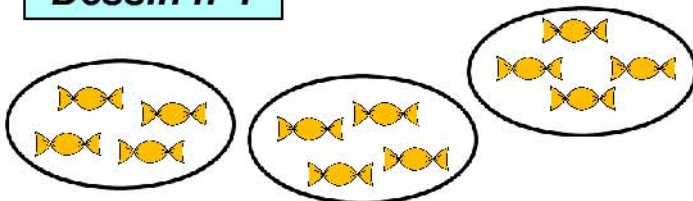


Poissons de Raphaëlle  
7

Nombre total de poissons = 25

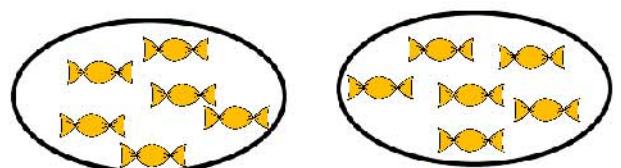
Sylvain a un paquet de 12 bonbons. Il le partage avec ses deux amis, Florian et Christine. Combien de bonbons chaque enfant aura-t-il ?

Dessin n°1



Chaque enfant aura 4 bonbons.

Dessin n°2



Chaque enfant aura 6 bonbons.