

Nom : .....

Date : .....

**1/ Matsuka et Kyami rentrent chez elles.**  
**Avec ta règle, mesure leur trajet et note les résultats.**  
**Colorie le personnage qui a parcouru le plus long chemin.**

Fais tes calculs ici :

.....

.....

.....

.....

.....

.....

.....


.....

.....


.....

Résultat :

.....



Matsuka



Fais tes calculs ici :

.....

.....

.....

.....

.....

.....

.....


.....

.....


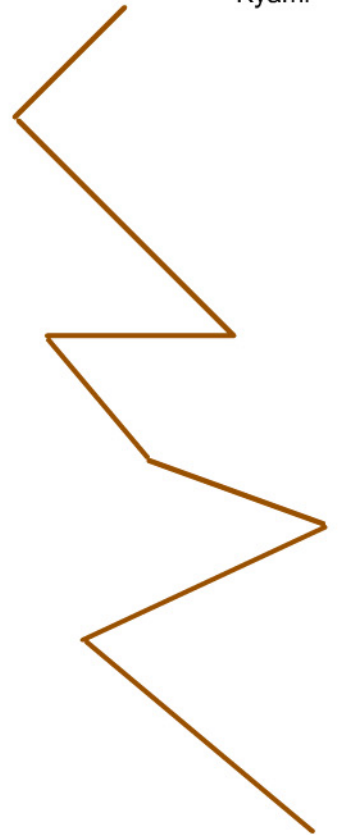
.....

Résultat :

.....



Kyami



**2/ Compare les deux trajets : quelle est la différence de longueur...**

... en centimètres ? .....

... en millimètres ? .....