






**1** Écris l'heure, du matin et de l'après-midi, indiquée par chaque horloge.

	<b>a.</b> 	<b>b.</b> 	<b>c.</b> 	<b>d.</b> 
Matin				
Après-midi				


**2** Indique la durée écoulée (inférieure à 12 h) entre les deux horloges.

**a.**




Durée écoulée : .....

**b.**




Durée écoulée : .....

**c.**



Durée écoulée : .....

**d.**



Durée écoulée : .....

**3** On a relevé les heures de lever et de coucher du Soleil à Paris pour les dates ci-dessous.



Dates	Lever	Coucher
1 <sup>er</sup> avril	7 h 27	20 h 22
1 <sup>er</sup> juillet	5 h 52	21 h 57
1 <sup>er</sup> septembre	7 h 08	20 h 32
1 <sup>er</sup> octobre	7 h 51	19 h 28

**a.** Quelle est la durée du jour pour chacune de ces dates ?

.....

.....

.....

.....

.....

.....

.....

.....

**b.** Classe ces journées dans l'ordre croissant de leur durée.

.....

.....

.....

.....

.....