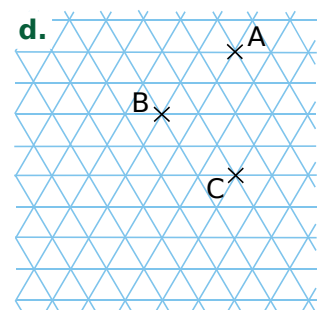
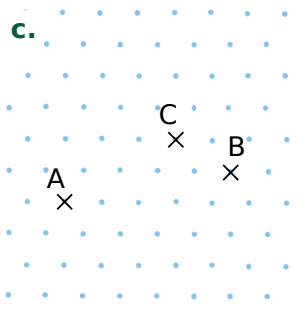
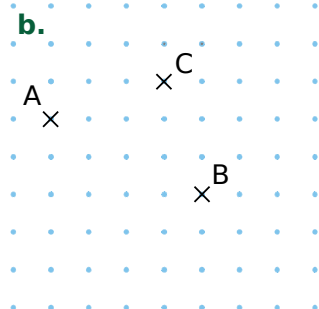
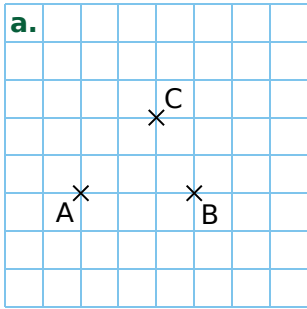
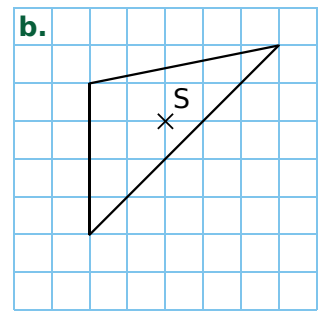
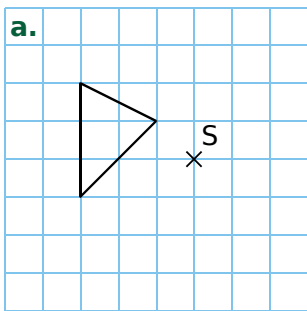


FICHE 3 : CONSTRUIRE DES SYMÉTRIQUES (1)

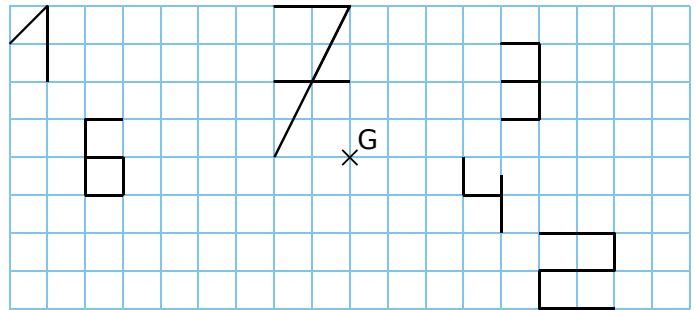
**1** Dans chaque cas, construis le point D, symétrique du point A par rapport au point C, puis le point E, symétrique du point C par rapport à B.



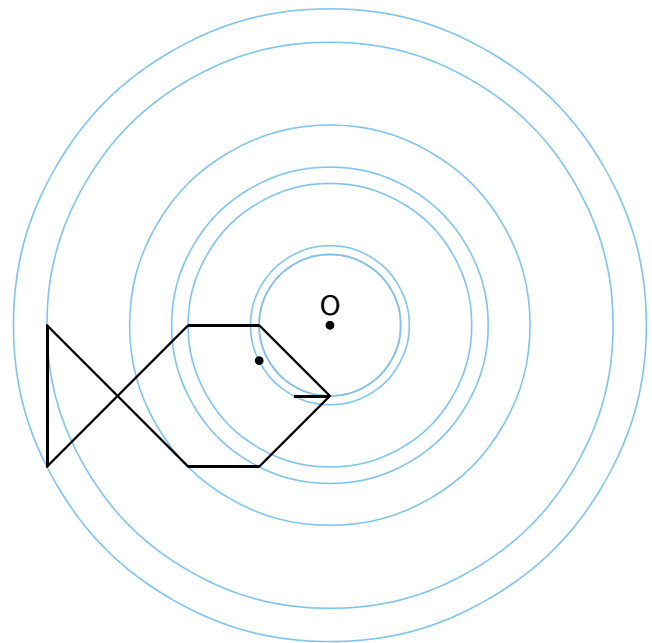
**2** Dans chaque cas ci-dessous, trace le symétrique du triangle par rapport au point S.



**3** Construis le symétrique de chaque chiffre par rapport au point G.



**4** Construis le symétrique de cette figure par rapport à O, en utilisant **uniquement ta règle**.



**5** Construis le symétrique de cette figure par rapport à O, en utilisant **uniquement ton compas**.

