

1 Dans chaque cas, quelle somme comptes-tu ?










2 Complète le tableau, en indiquant le nombre minimal de pièces et de billets nécessaires pour obtenir les sommes indiquées.



26 €						
52 €						
88 €						
99 €						
166 €						
213 €						

3 Pour acheter un jeu de fléchettes à 17 €, Zolan donne un billet à la caissière. Dessine les billets et les pièces (le moins possible) qu'elle doit lui rendre, en fonction du billet.



Billet donné par Zolan	Monnaie rendue par la caissière...	
	en billets et en pièces	en chiffres
	 €
	 €
	 €