



Consigne : Résoudre un problème avec addition et soustraction.

Pour chaque problème, écris l'opération correspondante ainsi qu'une phrase pour la réponse.


Calcule le poids des éléphants puis celui des hippopotames et cherche la différence de poids entre les deux familles.




Mr Éléphant = 6453 kg




Mr Hippopotame = 3476 kg




Mme Éléphant = 4396 kg



Mme Hippopotame = 2703 kg



Bébé Éléphant = 238 kg



Bébé Hippopotame = 149 kg

La ville de Soda est située à 845 m d'altitude. La rivière Tome, longue de 450 km, traverse cette paisible cité. Il y a un aéroport à 24 km de la ville et une superbe gare. Dans la ville de Soda, il y a exactement 23 786 habitants. Parmi eux, on trouve 8 417 hommes et 9 092 femmes. Le reste de la population est constitué d'enfants.

Combien y a-t-il d'enfants à Soda ?

