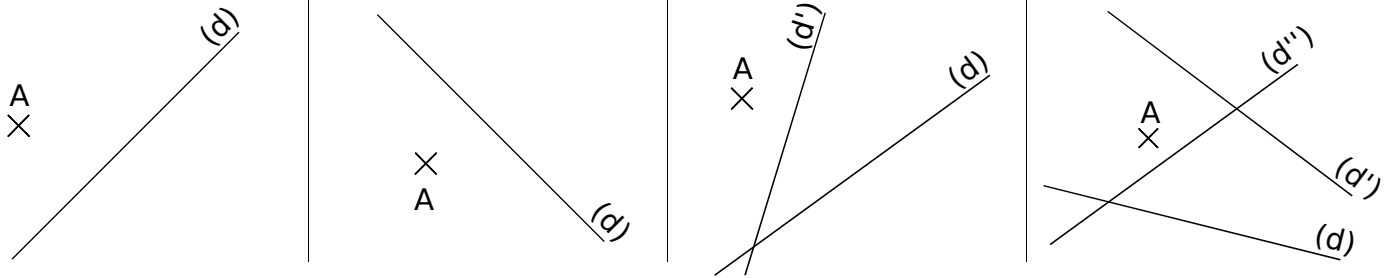


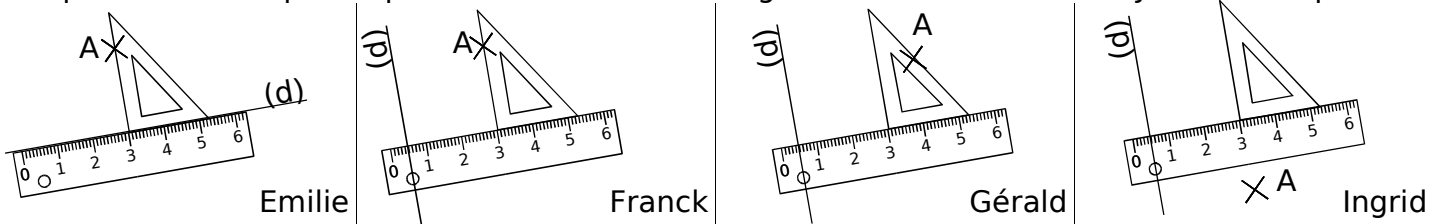
**5** Bon coup d'oeil ?

Dans chaque cas, trace, à main levée, la droite parallèle à la droite (d) passant par le point A :



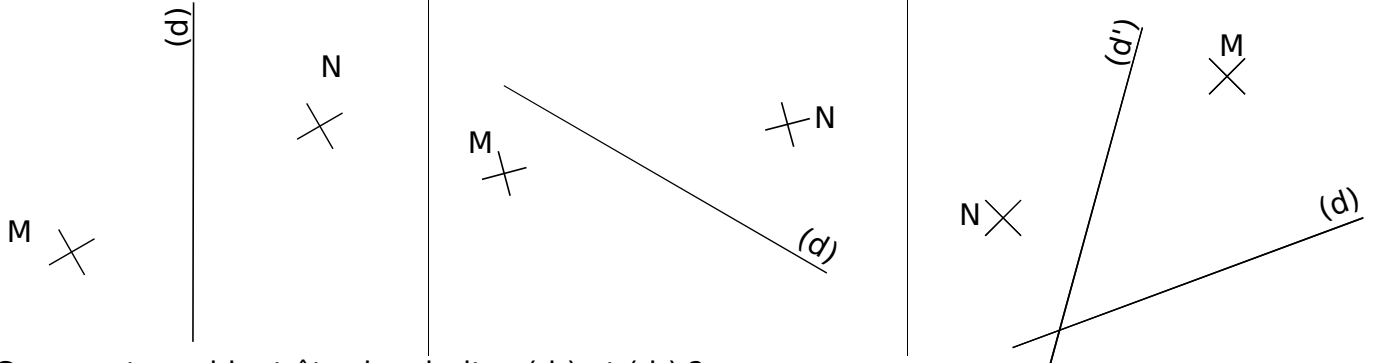
**6** Placer les instruments

Dans chaque cas, il faut construire la droite parallèle à la droite (d) passant par le point A. Indique les élèves qui ont placé les instruments de géométrie correctement. Justifie ta réponse.



**7** Droites parallèles

a. Dans chaque cas, construis, avec les instruments de géométrie, la droite (d<sub>1</sub>) parallèle à la droite (d) passant par le point M et la droite (d<sub>2</sub>) parallèle à la droite (d) passant par le point N :



b. Comment semblent être les droites (d<sub>1</sub>) et (d<sub>2</sub>) ?

**8** Dans chaque cas, construis, avec les instruments de géométrie, la droite parallèle à la droite (RA) passant par le point O :

