

CALCUL - Opérations à trous :

la division de nombres entiers

Nom :

Date :

1/ Calcule le nombre manquant dans ces divisions pour que les résultats soient justes :

$428 : \dots = 214$

$963 : \dots = 321$

$6\ 250 : \dots = 625$

$100 : \dots = 25$

$36 : \dots = 4$

$720 : \dots = 80$

$7\ 021 : \dots = 1\ 003$

$3\ 600 : \dots = 60$

1	2	4	
0	3	1	
0				

9	6	3	
0	6		 2 1
0	3			
0				

8	4		9
....			9 4
			0	

2/ Pose ces divisions et calcule la valeur des personnages :

$270 : \text{Personnage 1} = 30$

.....
.....
.....











$255 : \text{Personnage 2} = 51$




.....
.....
.....

$2\ 050 : \text{Personnage 3} = 410$

.....
.....
.....

3/ Trouve les nombres manquants dans cette division codée. Écris la réponse en chiffres.

				
0	1	2	3	4
				
5	6	7	8	9

			
....		